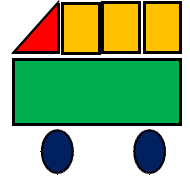


Semaine des mathématiques – Un défi par jour

12 au 16 mars 2018

Défi N° 1 GS

« Je vous mets au défi de m'indiquer le nombre de formes géométriques. »



Compétences visées:

- Reconnaître et distinguer des formes planes.





Proposition de déroulement :

1. Proposer le dessin géométrique aux élèves et leur demander de l'observer afin d'identifier les formes géométriques qui le composent.
2. Caractériser oralement les formes présentes dans le dessin.
3. Demander aux élèves de compter le nombre de formes qui composent le dessin pour chaque type de polygone.

Possibilité de différenciation:

- Le nombre de formes différentes qui constituent le dessin.
- Le nombre de figures pour chaque type de forme.
- Le remplissage du tableau réponse (formes déjà répertoriées dans le tableau, partiellement répertoriées ou pas reprises).
- Guidage dans la procédure de repérage des formes.

Solution :

			
3	8	9	6

Matériel :

